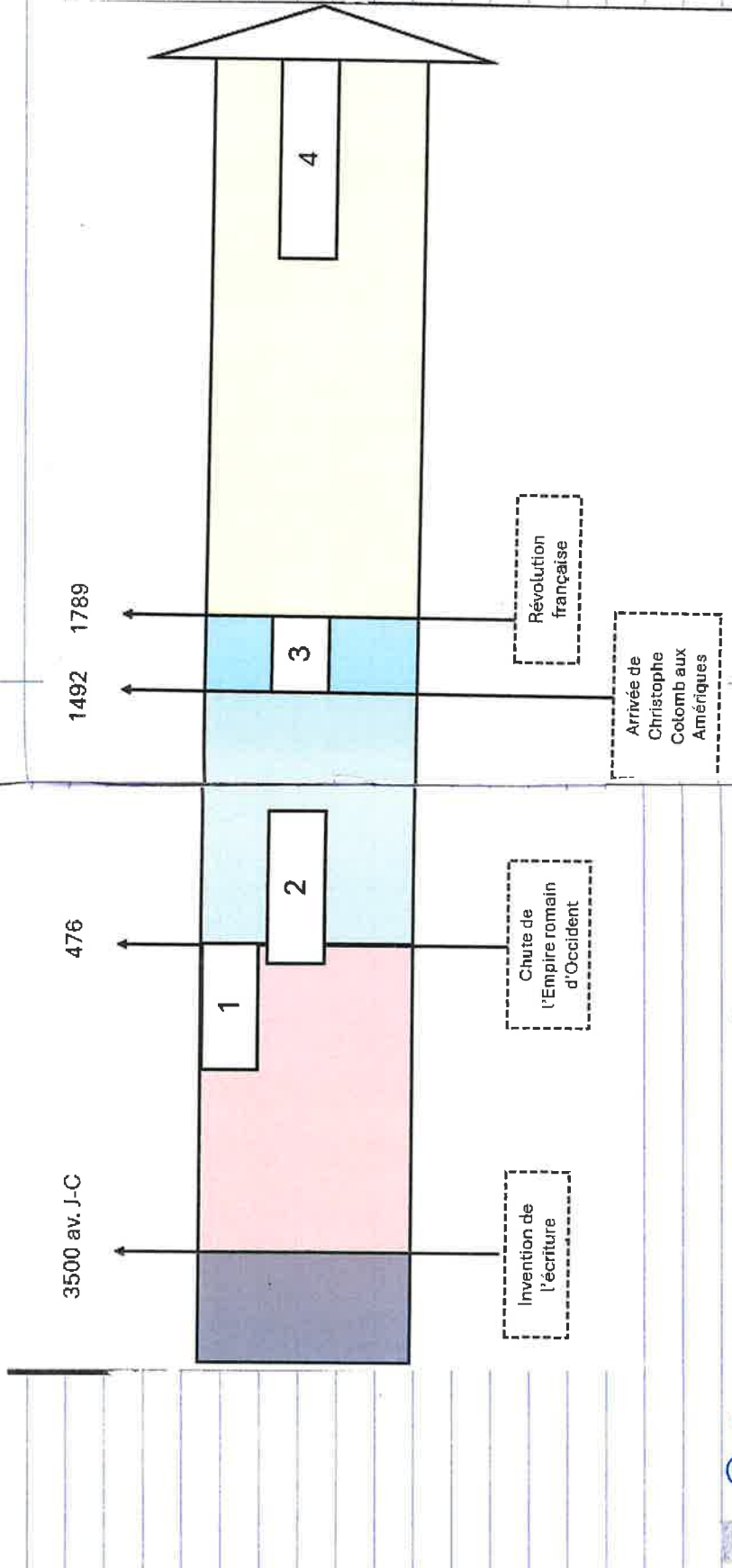


Table des matières

1. Ligne du temps et moments clés.
2. Les repères du temps.
3. Les moments clés.
4. La rose des vents.
5. Les continents.
6. Les océans.
7. Les lignes imaginaires de la Terre.
8. La période gallo-romaine.
9. La densité de population.
10. La répartition de la population mondiale.
11. Les principaux reliefs en Europe.
12. Moment clé 2 : les grandes migrations.
13. Moment clé 3 : Explorations et Colonisation.
14. La météo / Le climat.
- 15.

Ligne du temps et moments clés.



1. Préhistoire

2. Antiquité

3. Moyen Âge

4. Temps modernes

5. Époque contemporaine

⚠ Ligne du temps pas à l'échelle.

LES GRANDES PÉRIODES DE L'HISTOIRE – QUELQUES REPÈRES

1 – La Préhistoire

- Longue période depuis l'apparition de l'Homme sur la Terre jusqu'à l'invention de l'écriture.
- Repères : Les premiers Hommes, les chasseurs-cueilleurs, les agriculteurs-éleveurs, les peintures rupestres, le feu.

2 – L'Antiquité commence en -3000

- Période de l'Histoire qui commence avec les premiers écrits et qui s'achève avec la fin de l'Empire romain.
- Repères : les Gaulois, les Romains, les paysans, les artisans, les druides, Jules César, Les Gallo-Romains, les poteries, les charrues.

3 – Le Moyen-Age commence en 476

- Période de l'Histoire qui commence après la chute de l'Empire romain et qui s'achève avec la découverte de l'Amérique par Christophe Colomb.
- Repères : Les invasions normandes (les Vikings), les Francs (Charlemagne), Les premiers châteaux-forts (seigneur, vassal), les croisades (guerres pour délivrer le tombeau du Christ), Gutenberg invente l'imprimerie.

4 – Les Temps Modernes commencent en 1492

- Période de l'Histoire qui commence avec la découverte de l'Amérique par Christophe Colomb et qui se termine par la Révolution française.
- Repères : les grands voyageurs, les grandes découvertes, la Renaissance, les guerres de religion, les châteaux d'apparat.

5 – L'Époque Contemporaine commence en 1789

- Période dans laquelle nous vivons et qui commence par la Révolution française.
- Repères : Napoléon, l'indépendance de la Belgique, les guerres mondiales, la révolution industrielle, la naissance de l'Union européenne, les nouvelles technologies.

b) Moments clés de l'histoire :

ROMANISATION DE NOS RÉGIONS	
DÉBUT:	FIN:
50 avant JC 50 ACN	5 ^{ème} siècle 7 ^{ème} siècle
PÉRIODES CONCERNÉES :	
Antiquité (Moyen Âge).	

LES GRANDES MIGRATIONS	
DÉBUT:	FIN:
V ^{ème} siècle	X ^{ème} siècle (10)
PÉRIODE CONCERNÉE :	
(Antiquité) Moyen Âge	

EXPLORATIONS ET COLONISATIONS EUROPÉENNES	
DÉBUT:	FIN:
XV ^{ème} siècle (15)	XVIII ^{ème} siècle (18)
PÉRIODE CONCERNÉE :	
Temps modernes	

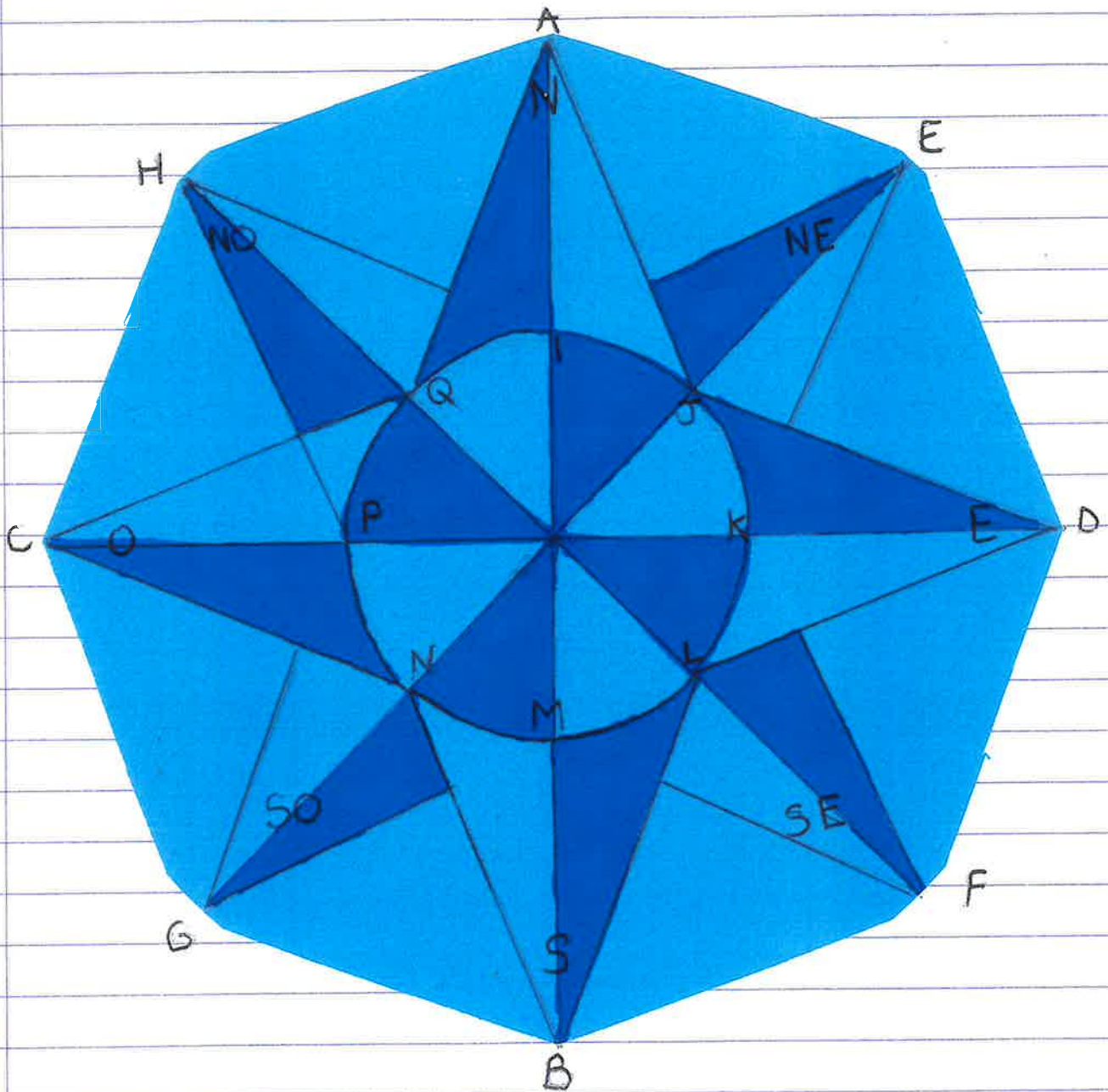
L'APRÈS-GUERRE	
DÉBUT:	FIN:
1945	à nos jours
PÉRIODES CONCERNÉES :	
Époque contemporaine.	



Je dois être capable de :

- CONNAITRE et SITUER les moments clés et les périodes de l'histoire sur une ligne du temps.
- CONNAITRE les dates des périodes conventionnelles et des moments clés.

4. La rose des vents



La rose des vents s'inscrit dans un octogone régulier

Superbe !

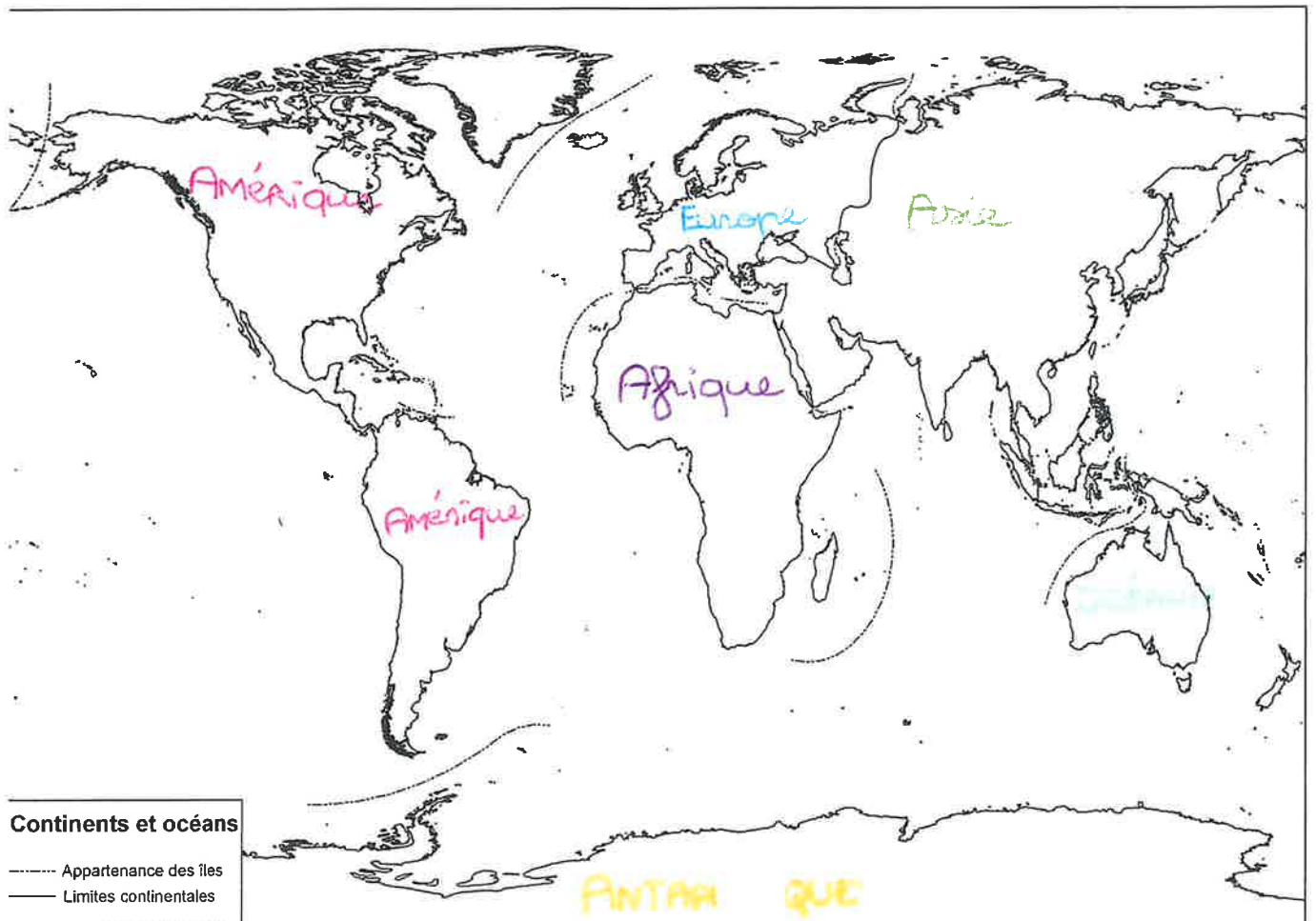
5. Les continents



Il y a 250 millions d'années, tous les continents ne formaient qu'un bloc : la Pangée

Les continents continuent de bouger.

Un continent est une immense étendue de terre souvent entourée de mers et d'océans.



Continents et océans

- Appartenance des îles
- Limites continentales

Adapté - SERIEPAAJULY 2005

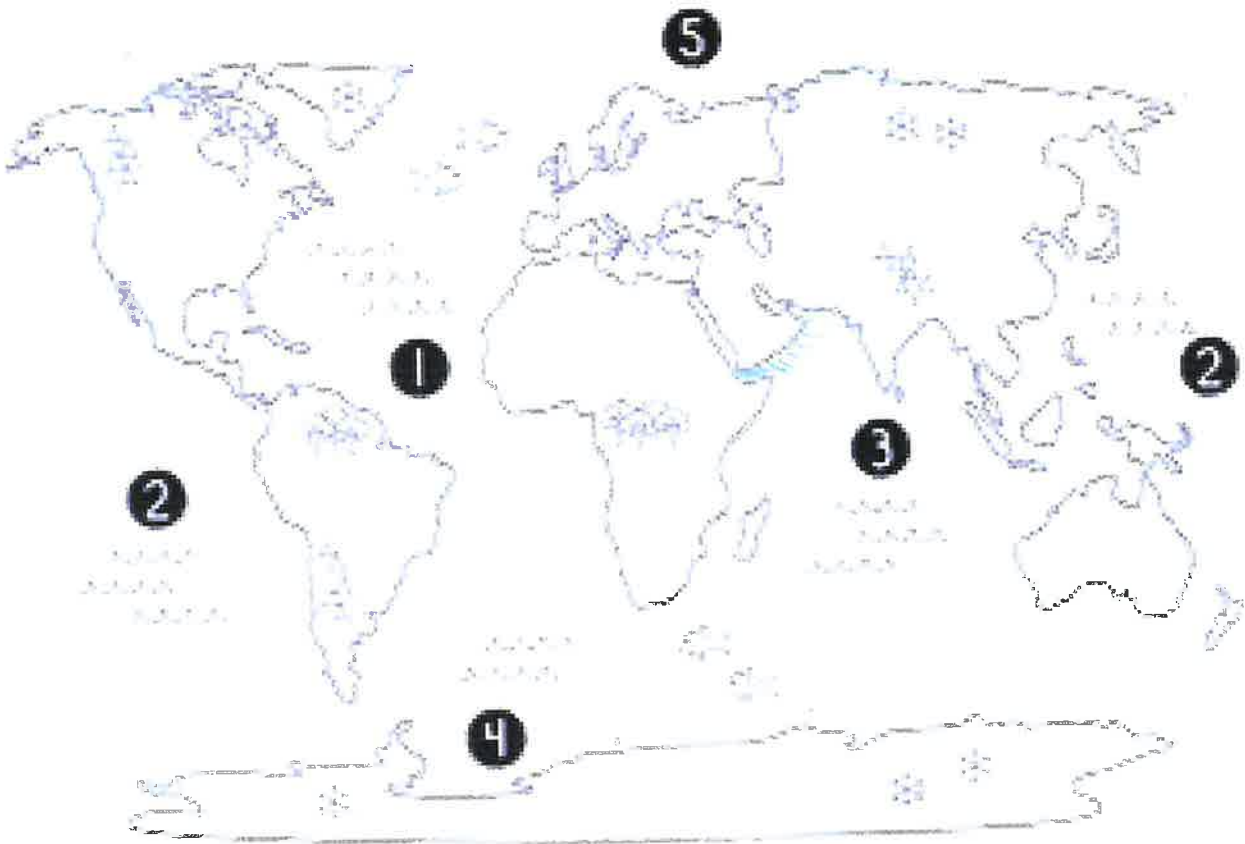
6. Les océans

Un océan est une vaste étendue d'eau salée.

70% de la Terre est recouverte d'océans.

L> Surnom: la planète bleue.

Il y a 5 océans:



1. Océan Atlantique

2. Océan Pacifique

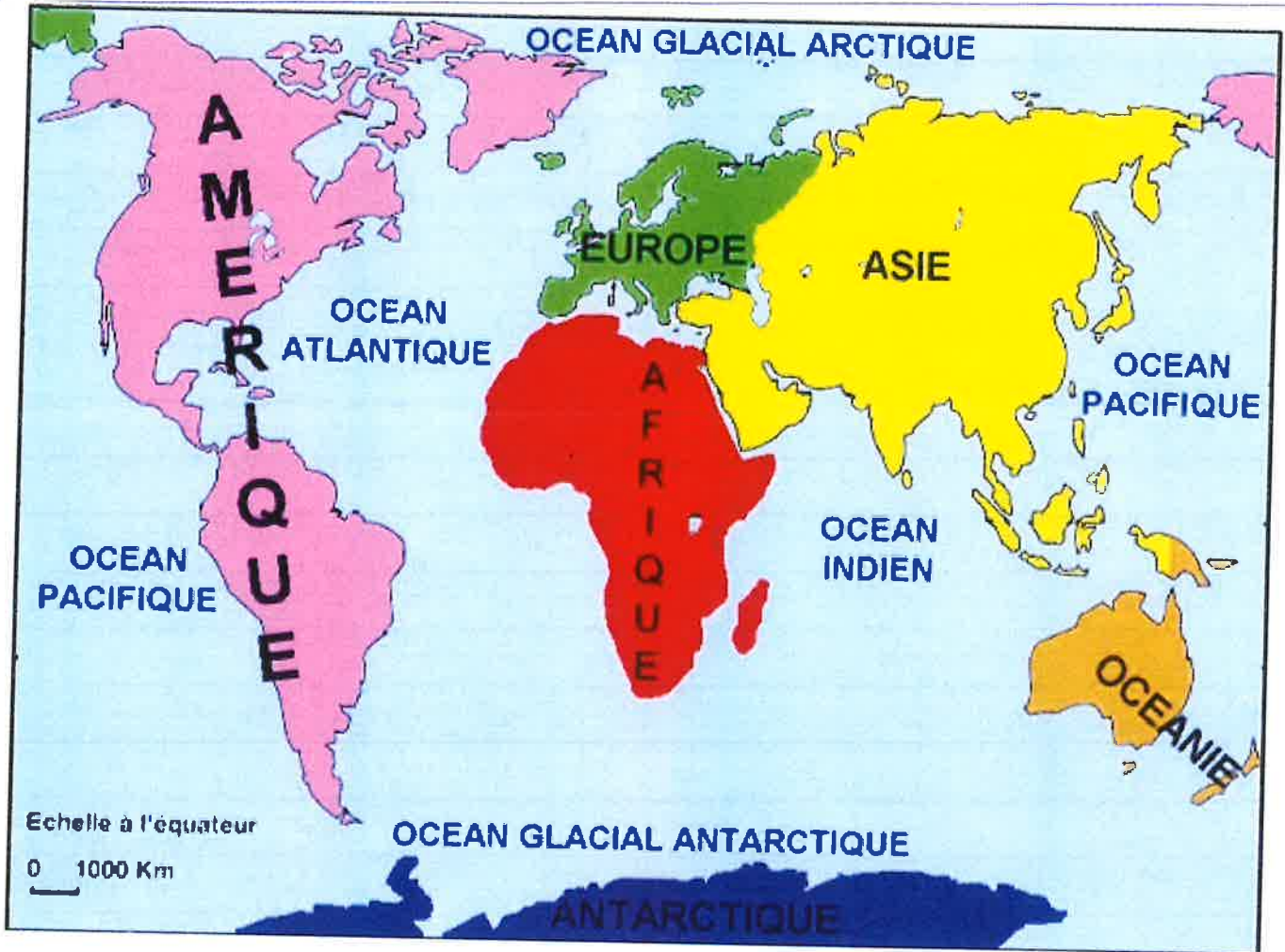
3. Océan Indien

4. Océan Glacial Antarctique

5. Océan Glacial Arctique

A retenir

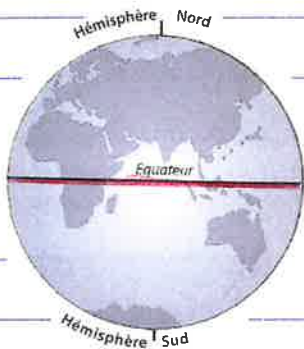
Il y a 6 continents et 5 océans.



7. Les lignes imaginaires de la Terre.

Pour se repérer, les géographes utilisent des repères de référence, des lignes imaginaires qui forment un quadrillage.

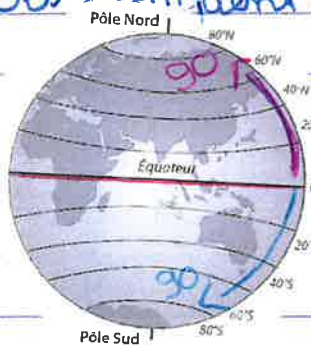
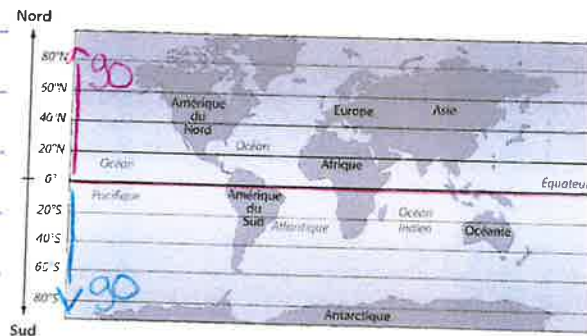
L'équateur qui coupe la Terre en 2 hémisphères.



Les parallèles

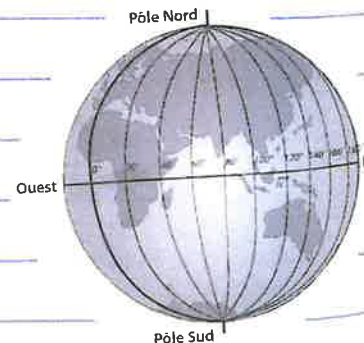
90 au nord ↑ ⇒ 180

90 au sud ↓ ⇒ Ils indiquent la latitude.



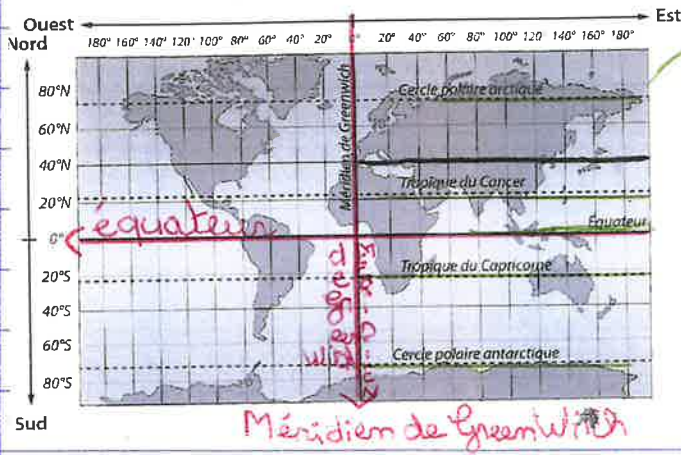
Les méridiens
180 à l'est →
← 180 à l'ouest

Ouest ————— Est



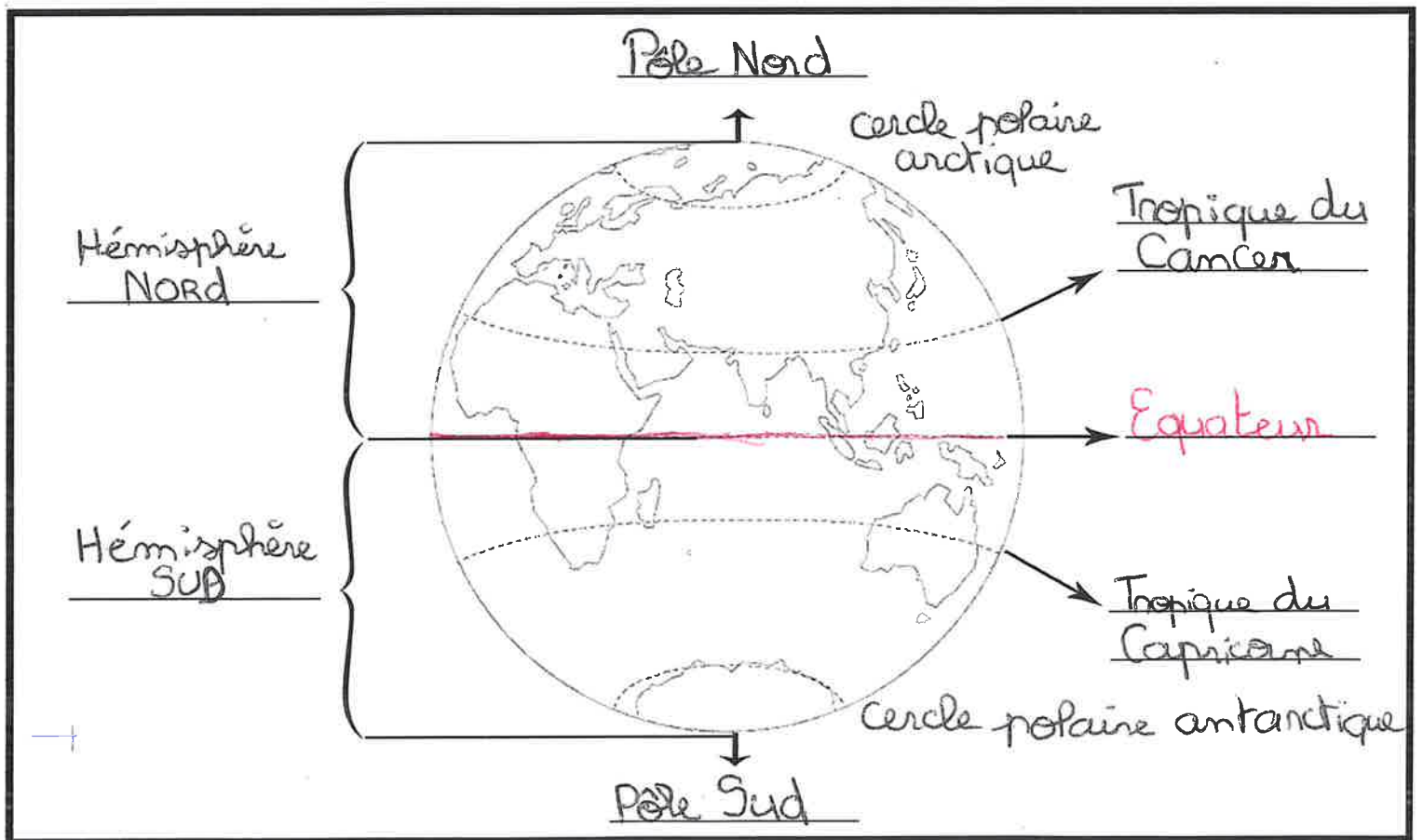
Ils forment le quadrillage

Le quadrillage ainsi formé permet de se repérer facilement grâce aux coordonnées géographiques.



5 parallèles de référence

Cointe se trouve à $50^{\circ}37'N$
 $5^{\circ}33'E$



8. La période gaullo-romaine


1. Avant la conquête romaine.

- Les Gaulois vivaient dans nos régions.
- Ils étaient organisés en tribus dirigées par des chefs
- Les druides jouaient un rôle important:
 - ils enseignaient
 - ils jugeaient
 - ils célébraient les rites religieux.

2. La conquête romaine

Au premier siècle avant J.C., Jules César a vaincu Vercingétorix (un chef d'une tribu gauloise)

↳ Nos régions sont devenues des provinces de l'Empire Romain.



► Henri-Paul MOTTE, Vercingétorix se rend à César, 1886.

1886

C'est une trace postérieure (après)

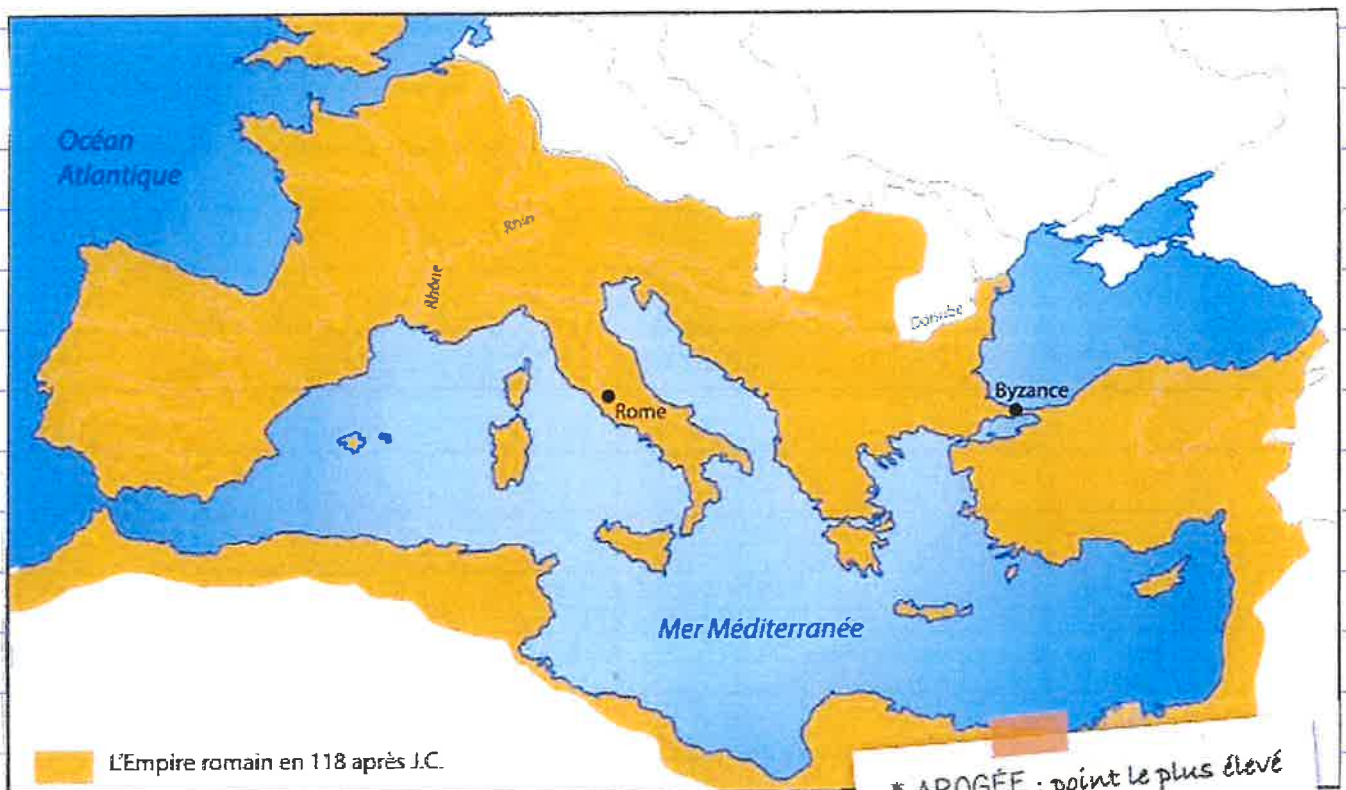
↳ Henri-Paul Motte m'a rien vu.

→ Aujourd'hui on remet en question cette représentation Gaulois (Barbe, cheveux longs, ...)

3. La romanisation

Les Romains ont apporté leur culture et leur mode de vie :

- langue : le Latin devient la langue principale.
- villes : développement de villes avec forums, thermes, temples et aqueducs.
- routes : construction de routes pavées reliant les cités entre elles.
- habitudes : adoption de nouvelles habitudes alimentaires, vestimentaires et architecturales.



► Carte de l'Empire romain à son apogée*.

Peu à peu, les Gaulois les adoptent mais ils conservent certains aspects de leur culture. Les Romains eux, à l'inverse utilisent les inventions gauloises, surtout dans le domaine de l'agriculture. C'est la raison pour laquelle on parle de Gallo-Romains car il s'agit d'un enrichissement réciproque entre les deux civilisations.

4. La naissance du christianisme

L'an 1 est choisi pour la naissance de Jésus à Nazareth.

Le christianisme se répand peu à peu dans l'Empire.
En 313, l'édit de Milan signé par l'empereur Constantin autorise la religion chrétienne.

L'édit de Milan (313) qui autorise les chrétiens à pratiquer leur religion (lettre impériale de Constantin à un gouverneur de province)

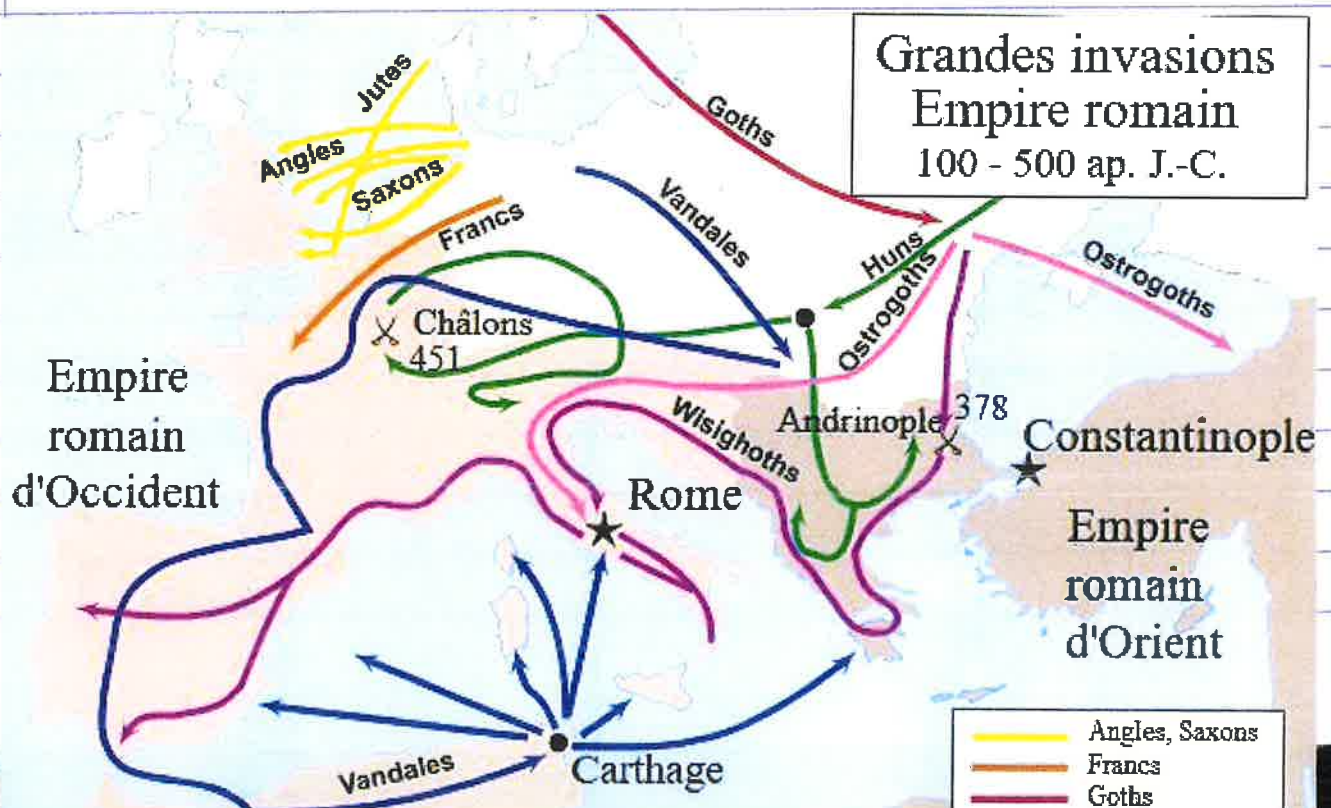
« Nous avons décidé de donner aux chrétiens comme aux autres la liberté et la possibilité de suivre la religion de leur choix, afin que tout ce qu'il y a de divin au ciel soit bienveillant et propice à nous-mêmes et à tous ceux qui se trouvent sous notre autorité. [...] Il convient donc que ton Excellence sache que nous permettons dorénavant à tous ceux qui souhaitent observer la religion des chrétiens, de le faire librement et complètement, sans être inquiétés ni molestés. [...] De plus, les locaux où les chrétiens avaient auparavant la liberté de se réunir doivent leur être rendus. »



Re transcription d'un extrait de l'édit de Milan.

5. La chute de l'Empire romain.

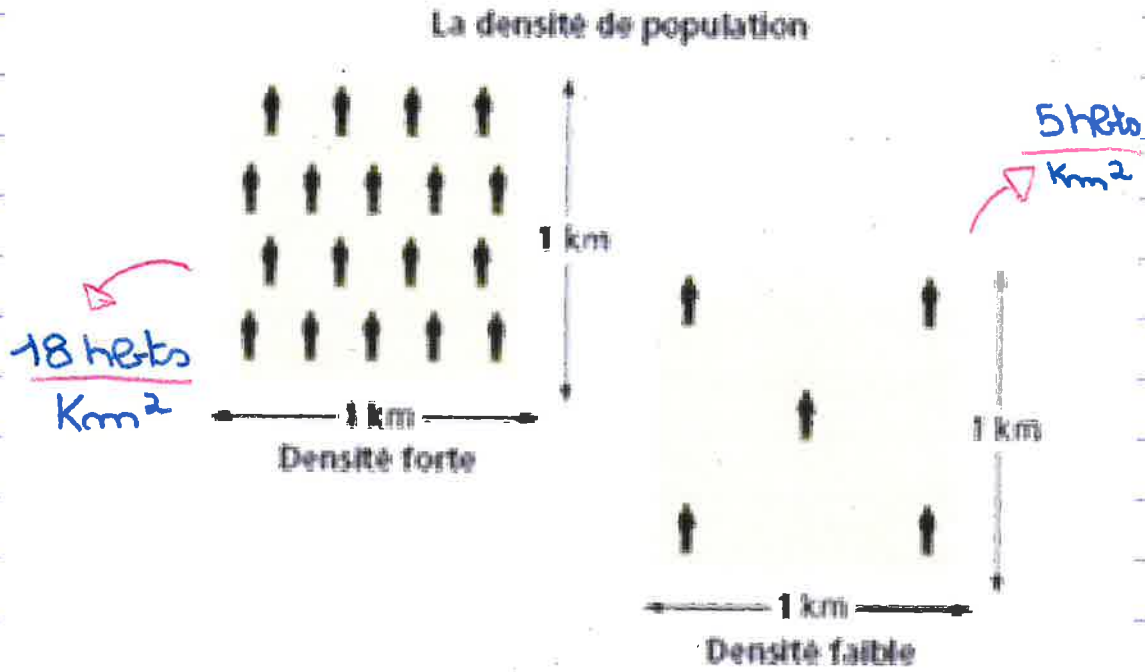
En 476 ap. J.C., l'Empire romain d'Occident s'effondre à cause des invasions barbares. C'est la fin de l'Antiquité et le début du Moyen Âge.



9. La densité de population


C'est le nombre d'habitants au kilomètre carré

$$\frac{\text{nombre d'habitants}}{\text{Km}^2}$$



La densité de population en Belgique au 27 novembre 2025, elle est de 385 hbts/Km²

Densité de la population en Belgique et selon les régions (habitants/ km²)



Elle varie fortement d'une région à une autre.
 Elle varie aussi d'une ville à une autre.
 Les espaces les plus peuplés en Belgique sont :

2699 hbts / Km²

Anvers

Densité de la population en Belgique au 1er janvier 2025

Gand
2699 hbts / Km²

Bruxelles :
5993 hbts / Km²

Louvain :
1824 hbts / Km²

Sillion (Sambre et Meuse)

autour

La population au 1er janvier 2025 et la superficie au 1er janvier 2025

- 750 - 23.486,0
- 400 - 749,9
- 250 - 399,9
- 140 - 249,9
- 24 - 139,9



Liège
Nombre d'habitants
204 000
→ densité:
Superficie: $69,39 \text{ Km}^2$
204 000 habitants
 $69,39 \text{ Km}^2$
 \approx
2939 habitants
 Km^2

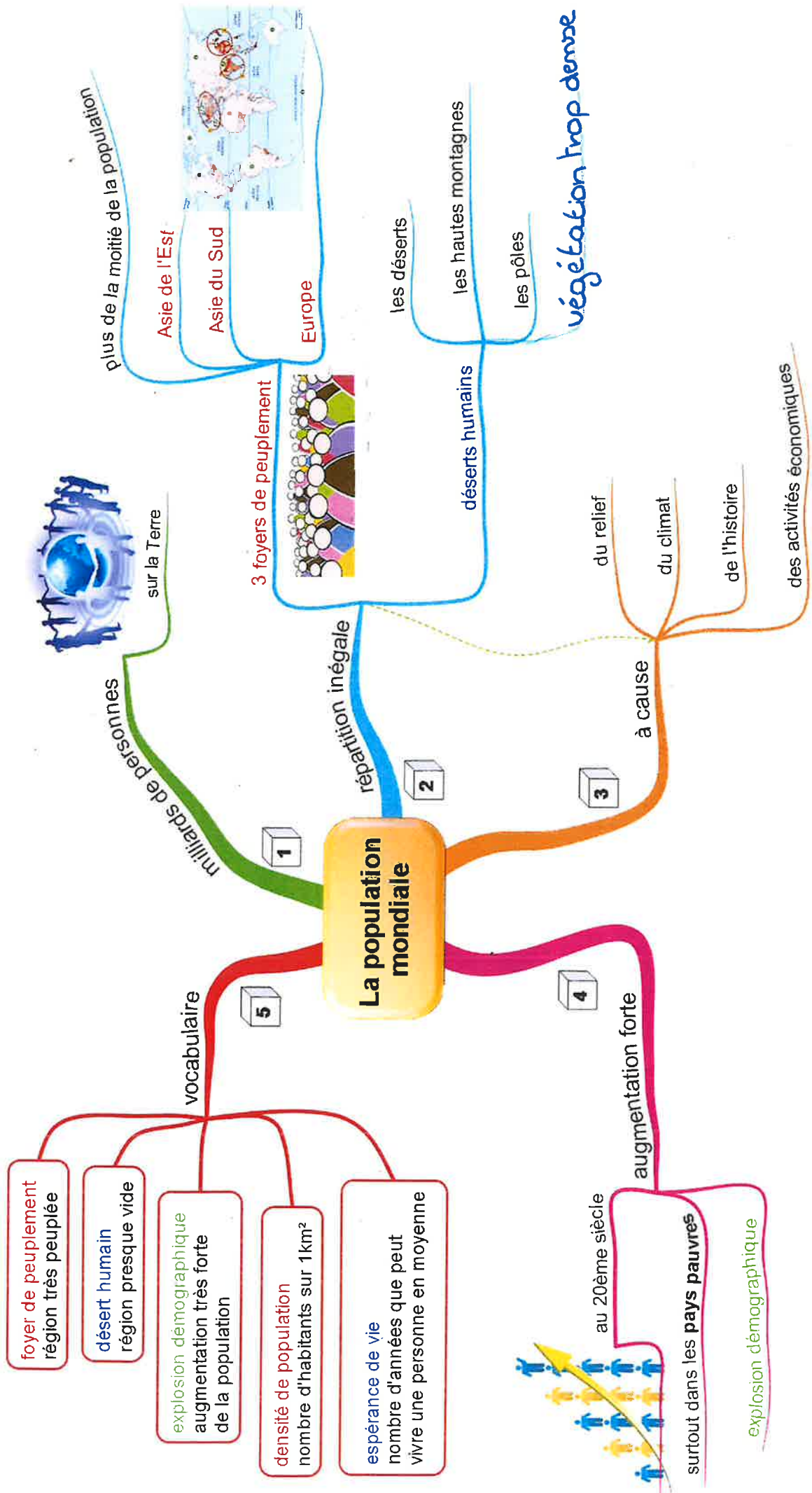


Chassepierre
80 habitants
Superficie: $\pm 3,5 \text{ Km}^2$
→ Densité:
80 habitants
 $3,5 \text{ Km}^2$
 \approx
23 habitants
 Km^2



Tokyo
14 000 000 habitants
Superficie: 2194 Km^2
→ densité
14 000 000 habitants
 2194 Km^2
 \approx
6383 habitants
 Km^2

UNITE 2 - SYMBOLES QUI L'EXPLIQUENT LA MER
 chose de 3 façons différentes.

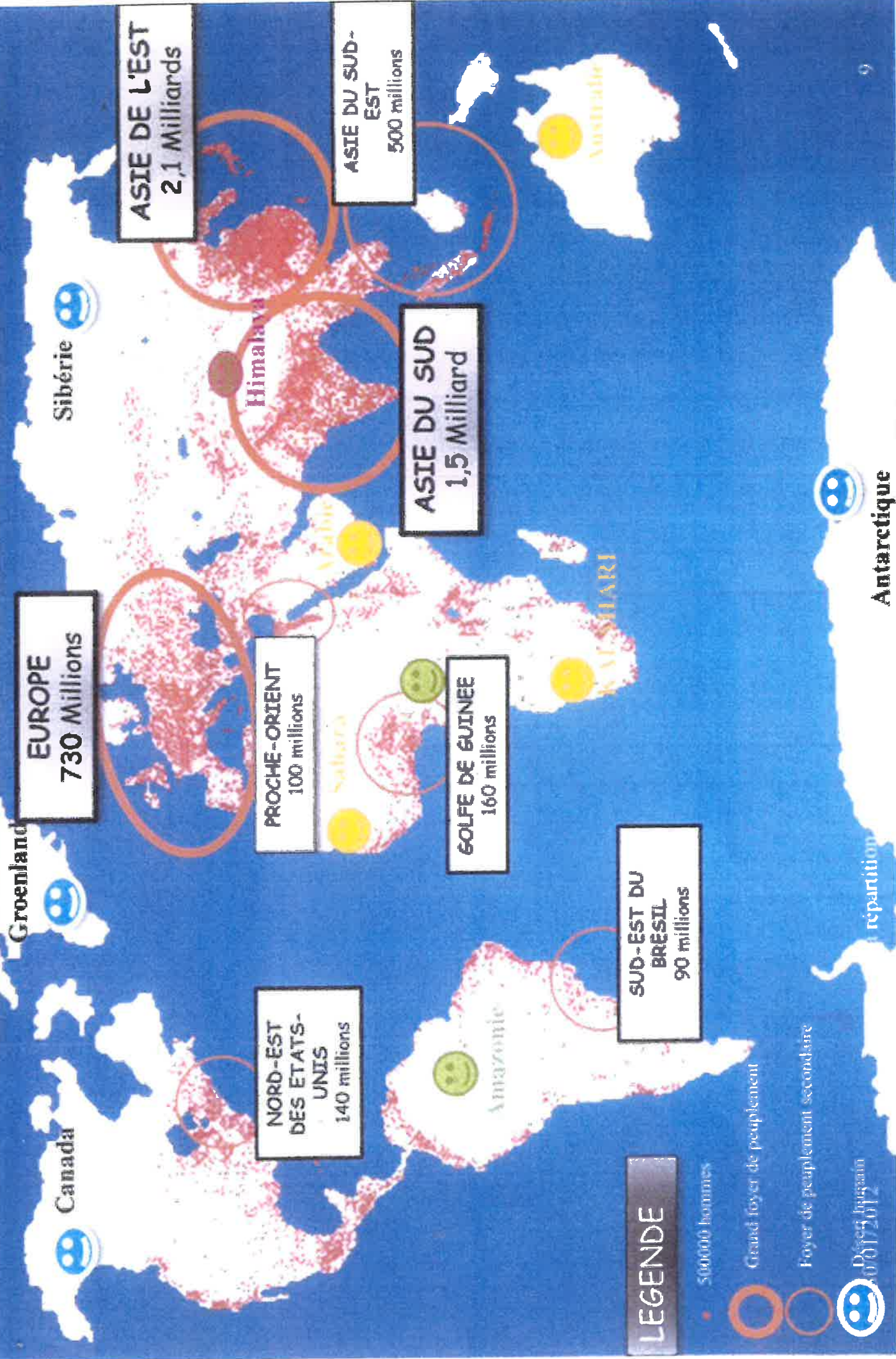


TROP FROID

TROP SEC

TROP de VEGETATION

TROP HAUT



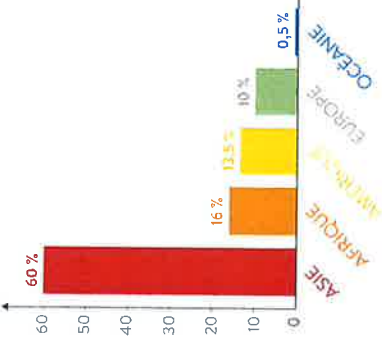
LEGENDE

- 500000 hommes
- Grand foyer de peuplement
- Foyer de peuplement secondaire

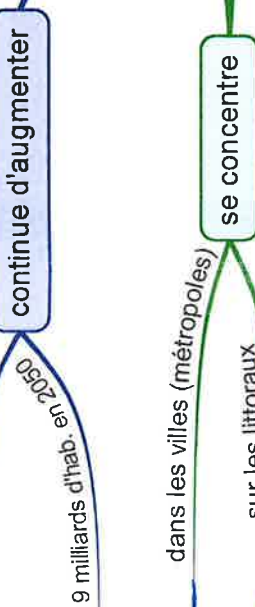
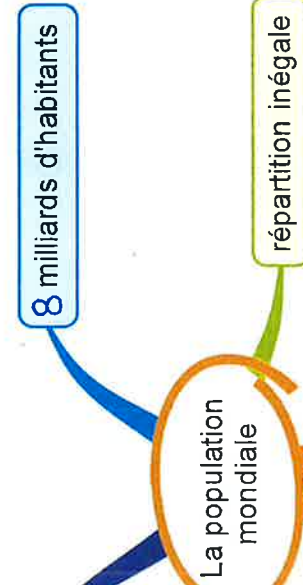
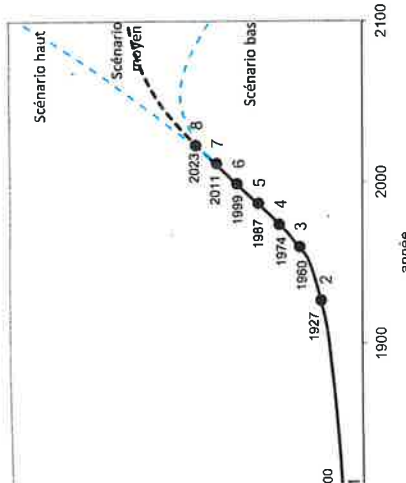


repartition

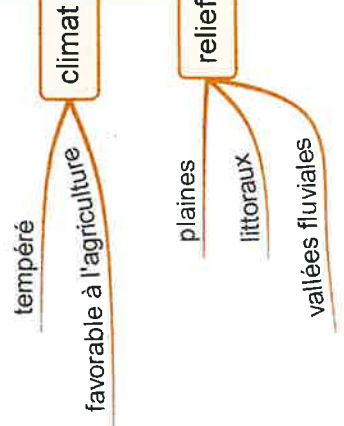
Une inégale répartition de la population mondiale



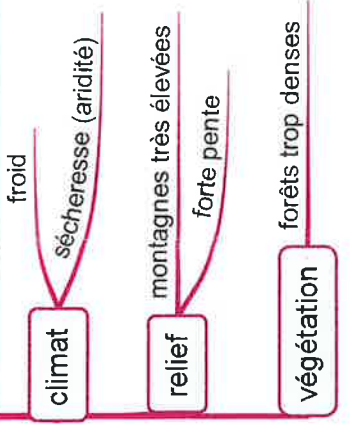
Evolution de la population mondiale depuis 1800 et projections jusqu'en 2100



des espaces très peuplés
fortes densités / foyers de population depuis longtemps



des espaces peu peuplés
faibles densités / déserts humains à cause des contraintes naturelles



40%
+ de 20% à moins de 30 km des côtes

11

Les principaux reliefs en Europe.

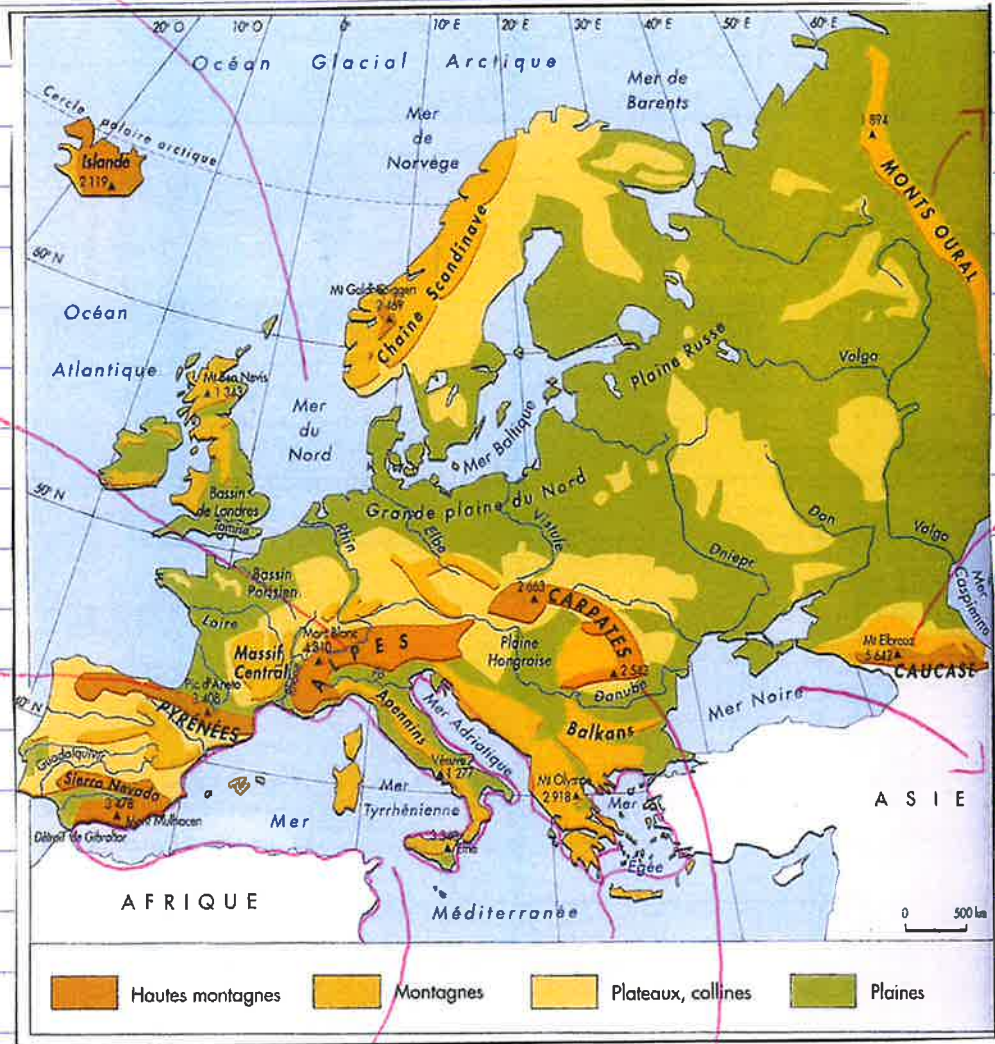
haute montagne : montagne de plus de 2000 m

montagne : terrain élevé de plus de 600m et pentu.

Plateau : vaste étendue plane et élevée.

Plaine : vaste étendue plate ou peu ondulée et de faible altitude.

Mer du Nord



Alpes

Pyramées

Mer Méditerranée

Carpatates

Monts Oural

Caucas

Mer Noire

12. Moment clé 2 : les grandes migrations.

La fin de Rome et l'arrivée de nouveaux peuples.
Le Haut Moyen Âge se déroule du V^{ème} au X^{ème} siècle.
Il commence en 476 après la chute de l'Empire romain d'Occident.

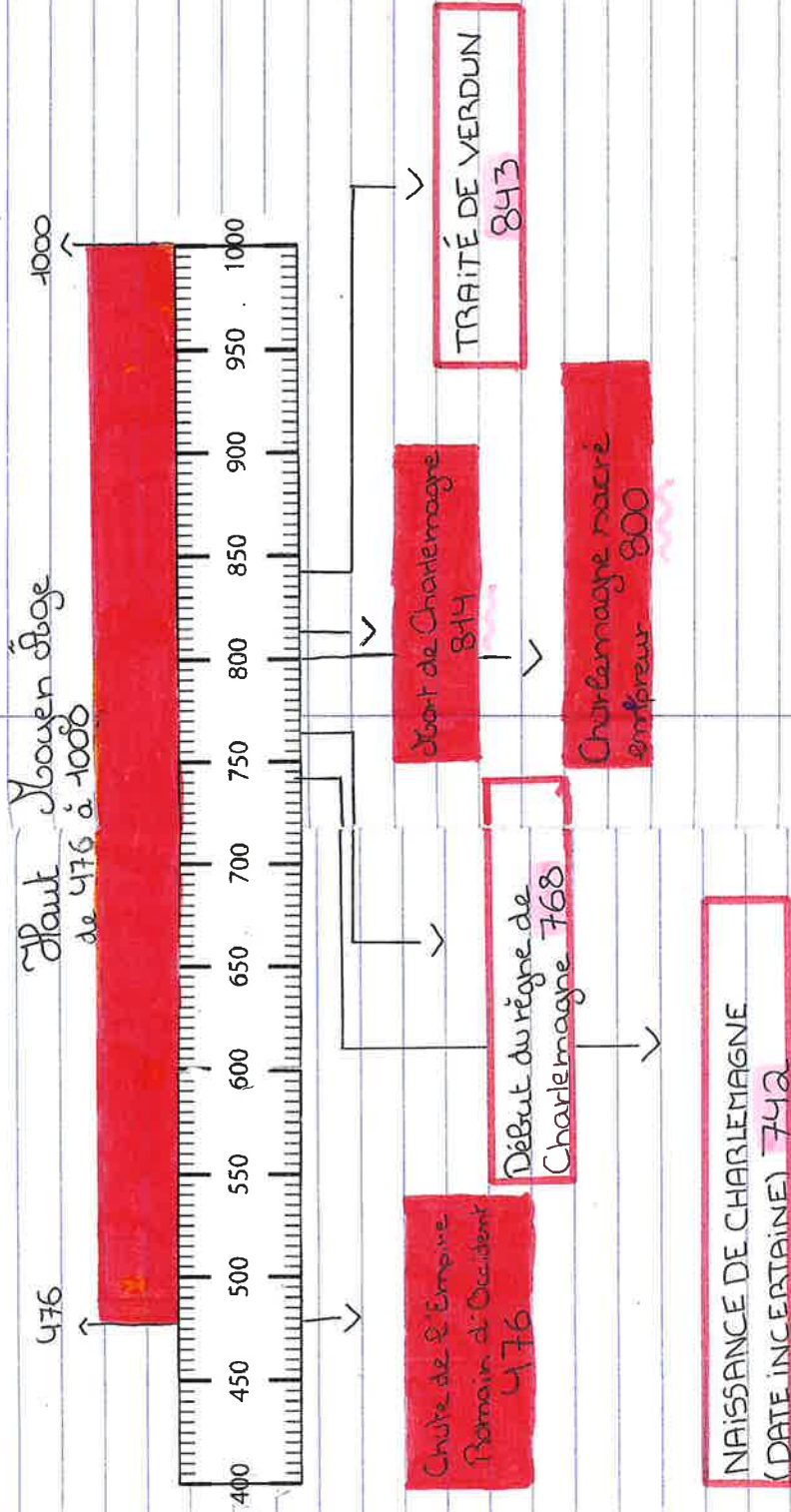
À partir de ce moment de nouveaux peuples appelés "barbares", s'installent en Europe.

Les royaumes barbares, vers 500



12.2

Ligne du temps



2.3

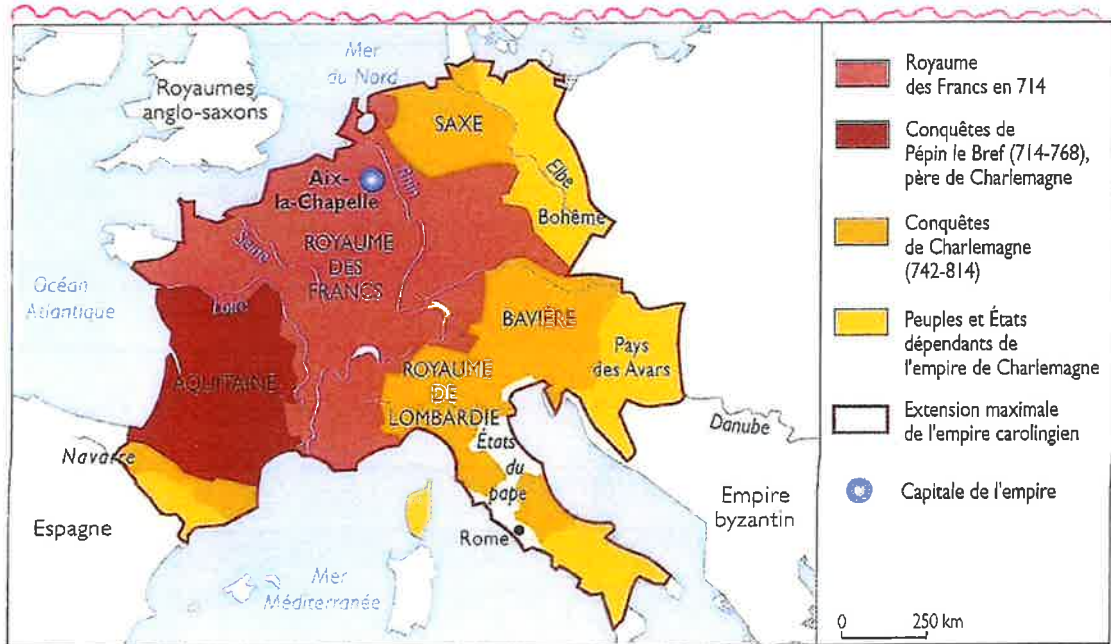
Le royaume franc et Charlemagne

Au 8^{ème} siècle, un roi franc, Charlemagne renforce et organise le royaume.

Il étend son pouvoir sur une grande partie de l'Europe occidentale et devient empereur en 800.

Son règne est un moment fort du Haut Moyen Âge il administre l'empire, soutient la religion chrétienne et encourage la culture.

À sa mort, son empire est partagé par le traité de Verdun (843).

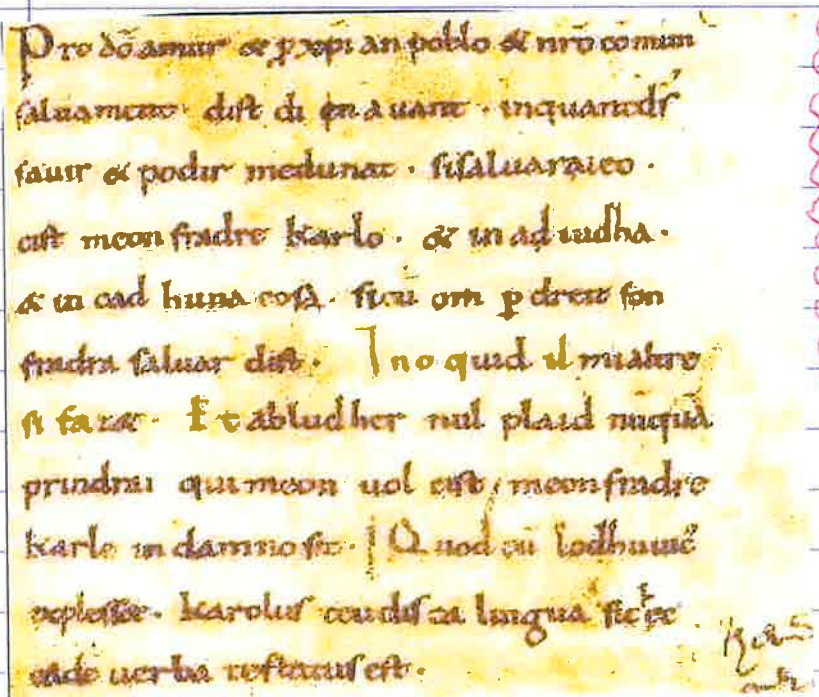


Langues

Pendant le Haut Moyen Âge, plusieurs familles de langues coexistent :

- le latin, hérité des Romains
- les langues germaniques, apportées par les peuples comme les Francs.

En 842, les serments de Strasbourg sont écrits en roman (ancêtre du Français) et en francique (l'ancêtre de l'allemand).



Le Haut Moyen Âge est une période de rupture :
fin du monde romain, installation de nouveaux peuples, changement de langues et poursuite de la christianisation.

Le christianisme

Le christianisme continue à se développer. On construit des églises et des monastères, et l'art chrétien devient de plus en plus important.

Les moines suivent la règle de Saint Benoît : prière, travail et obéissance.

Ils vivent en autarcie : ils produisent tout eux-mêmes.

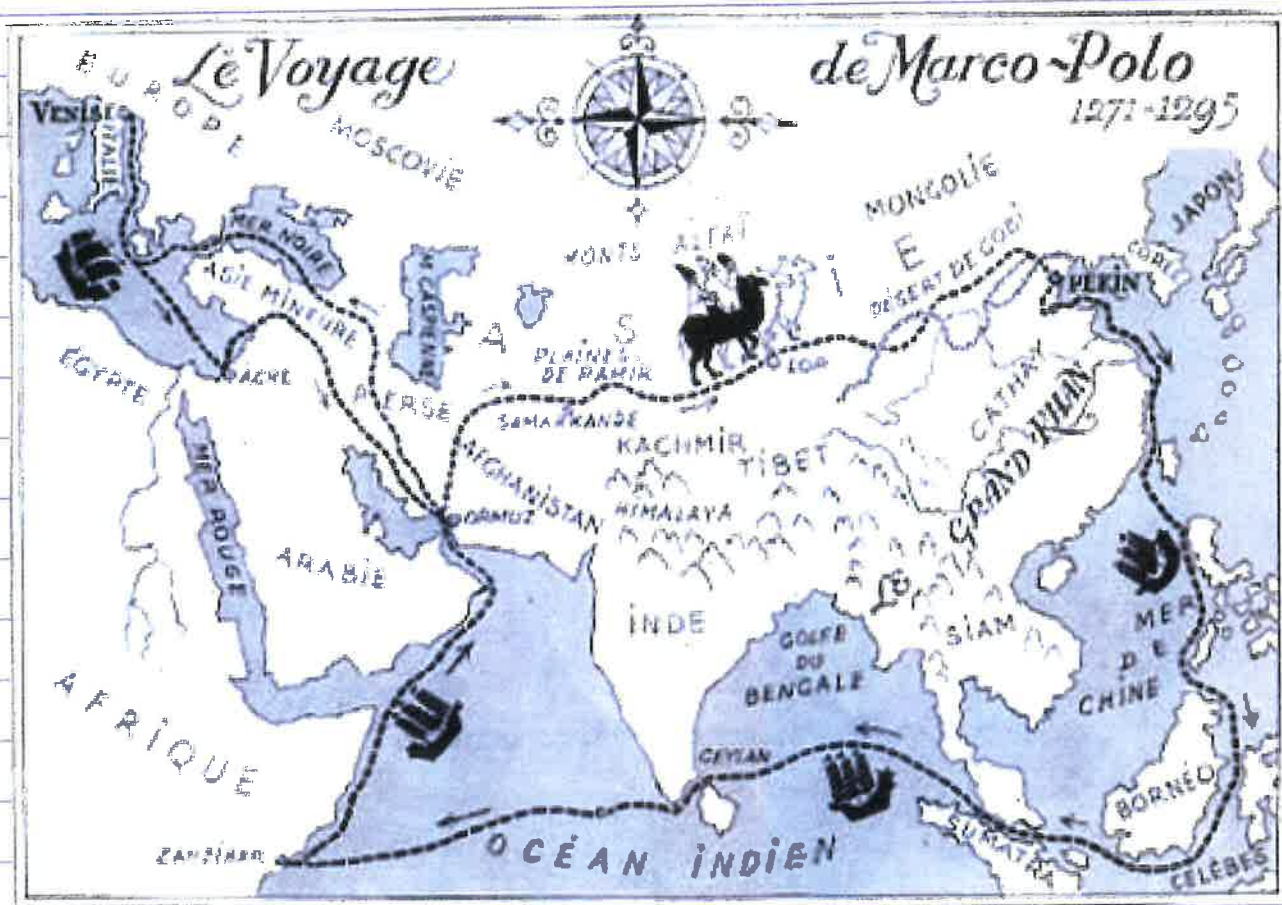
Moment clé 3 : Les explorations et les colonisations

Marco Polo (1254-1324)

Marco Polo est un grand voyageur du Moyen Âge. Il voyage très loin, jusqu'en Asie.

À son retour en Europe, il raconte ses voyages dans un livre.

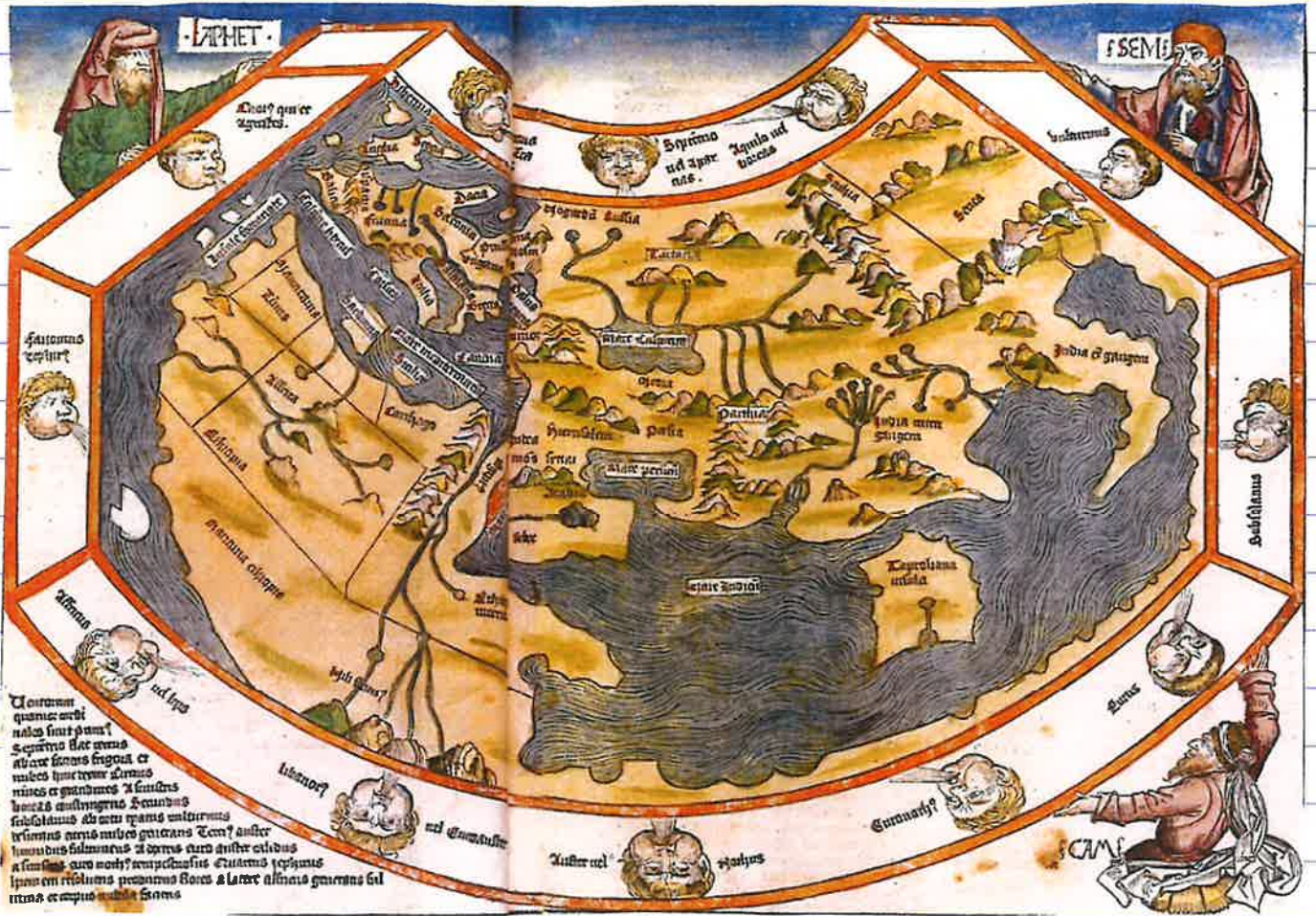
Grâce à ses récits, les Européens découvrent de nouvelles régions lointaines, des peuples et des richesses qu'ils ne connaissaient pas.



À cette époque, les Européens ne connaissent encore qu'une partie du monde : l'Europe, le nord de l'Afrique et le Proche-Orient.

Au XV^{ème} siècle, les cartes sont réalisées à partir de récits de voyageurs comme Marco Polo, de textes anciens et de croyances. Elles sont donc approximatives.

Certaines régions sont déformées ou représentées de manière symbolique.

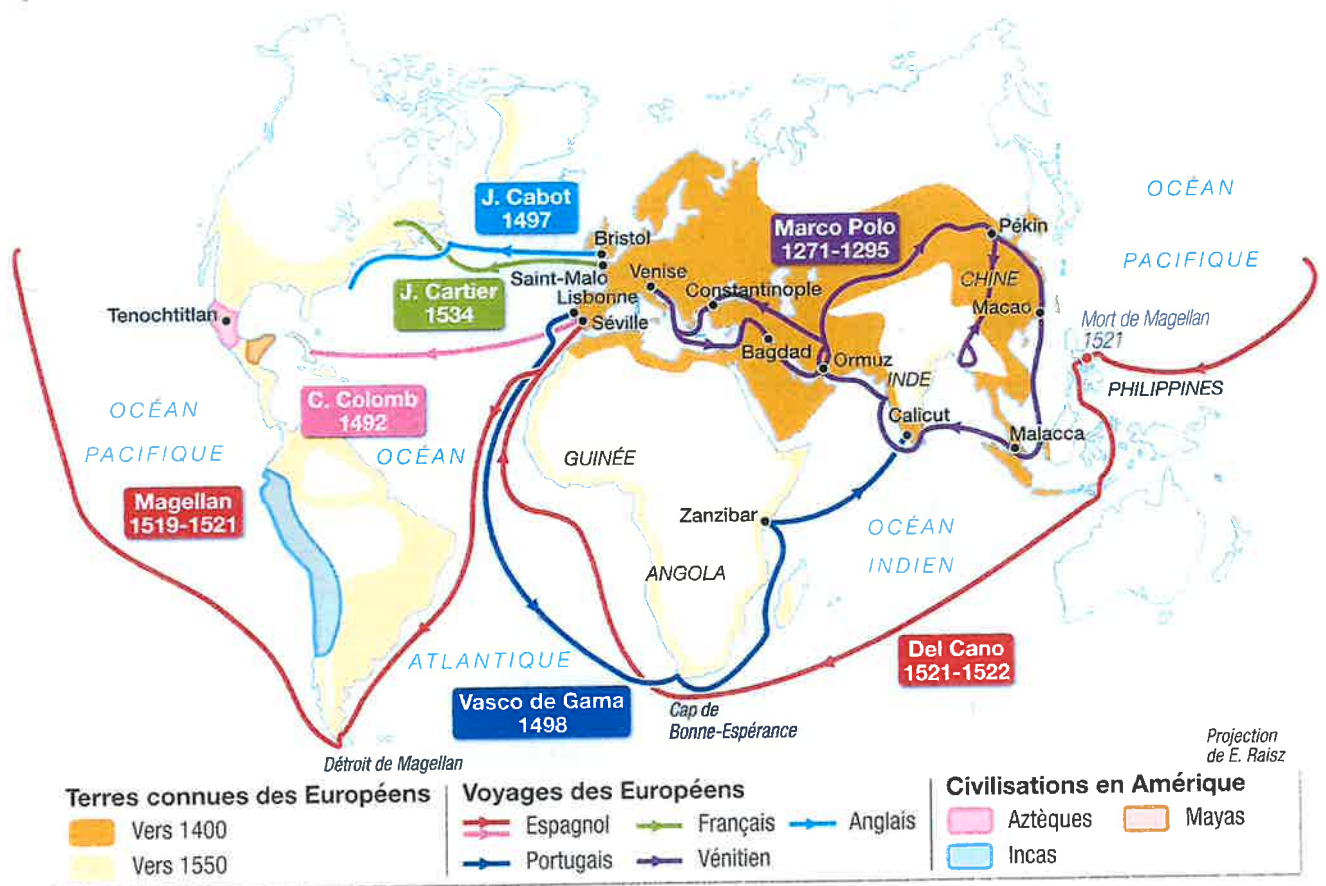


La carte du monde selon Shedel, dessinée par Wolgemut et Pleydenwurff au 15^{ème} siècle.

Petit à petit, les Européens découvrent de nouvelles régions du monde grâce à de grandes expéditions

Le but de ces expéditions est de :

- Trouver de nouvelles routes commerciales.
- Échanger des marchandises.
- Accéder à de nouvelles richesses.



Ces grandes expéditions deviennent possibles grâce à :

- des cartes de plus en plus précises.
- l'amélioration des bateaux, comme les caravelles capables de naviguer long temps en mer.
- de nouveaux instruments de navigation, comme la boussole et l'astrolabe.

Peu à peu, les Européens comprennent l'intérêt de rester sur place pour mieux contrôler les échanges et les richesses.

Ils installent alors des comptoirs et des colonies.






Au 18^{ème} siècle, cette présence devient durable.

Ils exploitent les terres et organisent les territoires conquis.

C'est ainsi que se forment de vastes empires coloniaux.

Les empires coloniaux
vers 1740.

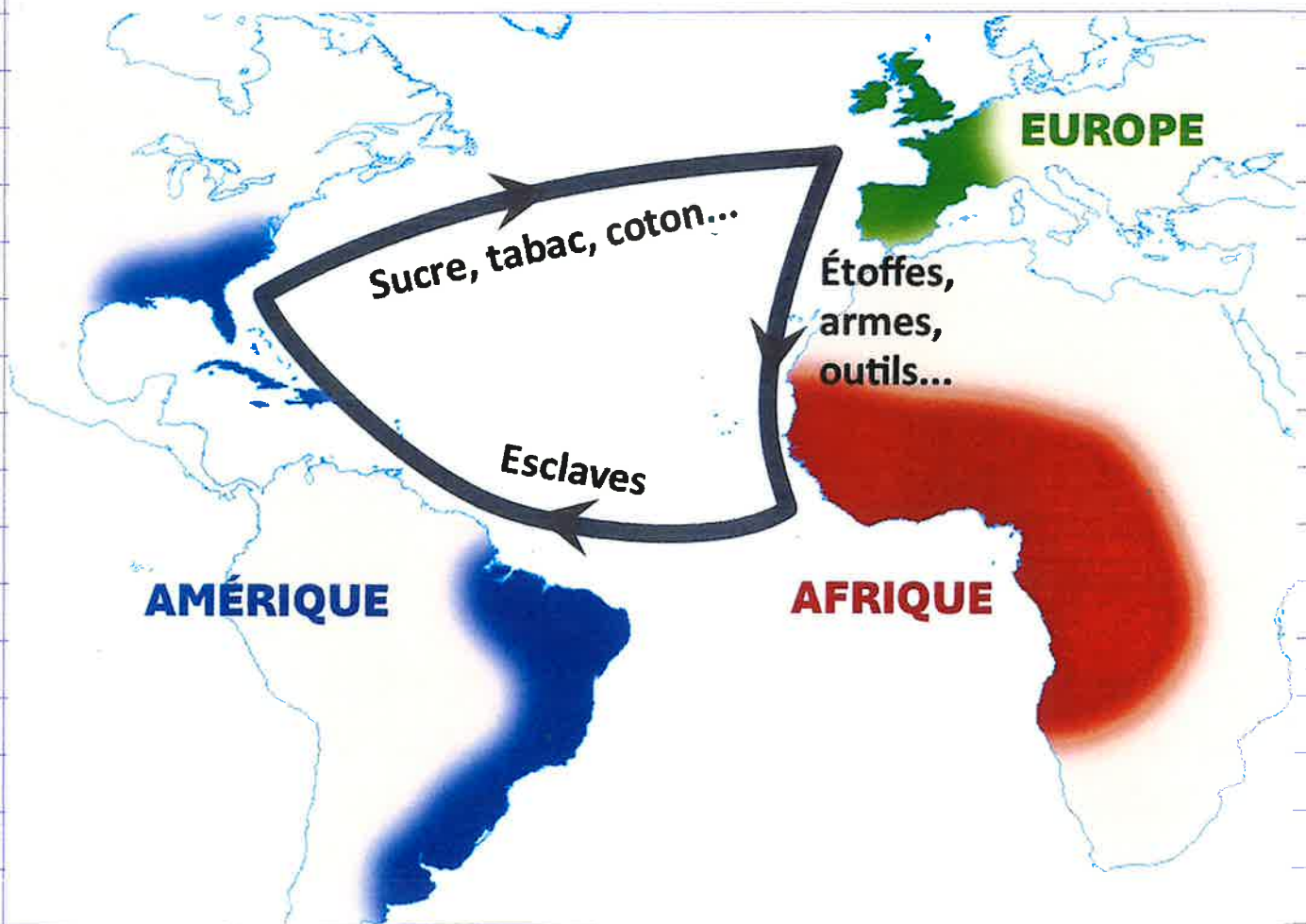
la carte des
empires.

-  Possessions anglaises
-  Possessions espagnoles
-  Possessions françaises
-  Possessions portugaises
-  Possessions des Provinces-Unies

Suite : Le commerce triangulaire

Du 16^{ème} au 18^{ème} siècle, le commerce triangulaire est un système d'échanges entre l'Europe, l'Afrique et l'Amérique.

Il repose sur l'esclavage et permet aux Européens de s'enrichir grâce aux produits des colonies.



A retenir :

Du XVe au XVIIIe siècle, les Européens colonisent de nombreuses régions du monde, notamment en Amérique. Cette colonisation a de lourdes conséquences pour les peuples colonisés. Beaucoup sont soumis à l'esclavage ou au travail forcé et leurs terres sont exploitées. Les richesses et les produits des colonies sont envoyés en Europe. Les colonisateurs imposent aussi leur langue et leur religion, ce qui bouleverse les cultures locales.

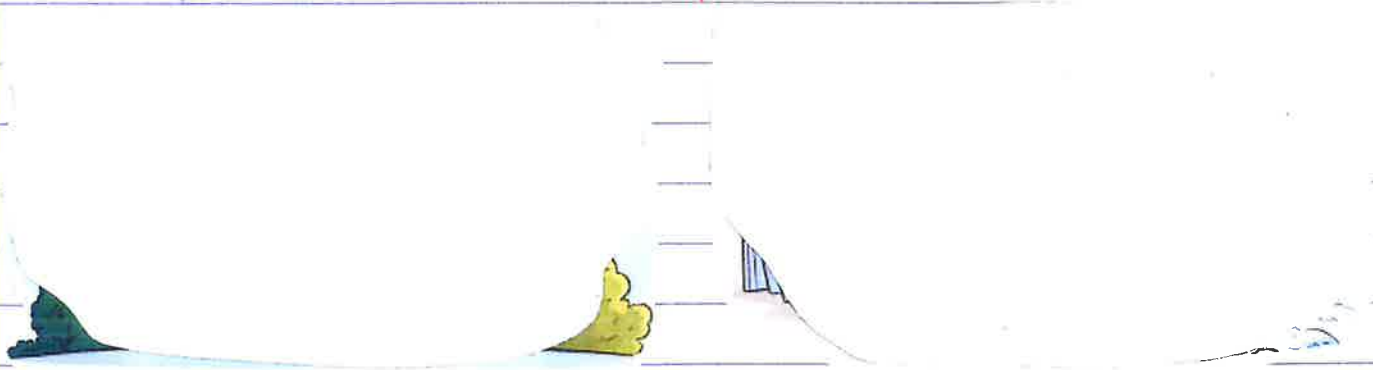
Ces échanges ont permis l'arrivée en Europe de produits que nous consommons encore aujourd'hui, comme le sucre, le cacao ou le café.

14. La météo

Temps qu'il fait maintenant ou dans les prochains jours.

Le climat

Temps moyen observé pendant de très longues périodes dans une région.



2. Les éléments du climat



Pour décrire le climat d'un endroit, on observe surtout 2 choses:

La température

La température indique s'il fait plutôt chaud ou froid.

Les précipitations

Ce sont toutes les formes d'eau qui tombent du ciel et arrivent sur le sol: - la pluie - la grêle
- la neige - le grésil



Suite... Les climatogrammes

Les données sur le climat permettent de créer des climatogrammes.

Un climatogramme est un graphique qui montre le climat moyen d'un endroit pendant toute une année.

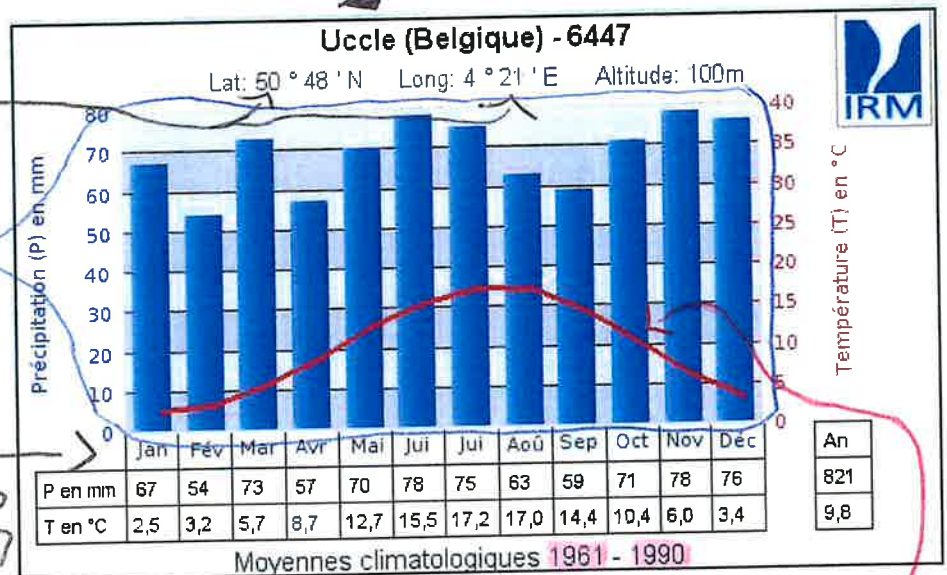
Pour le construire, on utilise les moyennes de température et de précipitations de chaque mois. Ces moyennes sont calculées grâce à des observations faites pendant de nombreuses années au même endroit.

Le nom de la station d'observation
ses coordonnées exactes

les mois de l'année

la moyenne des précipitations

la moyenne des températures



L'échelle des quantités de précipitations (en mm)

Les bâtonnets bleus indiquent les précipitations moyennes mensuelles

L'échelle des températures moyennes (en °C)

La courbe rouge relie les températures moyennes pour chaque mois

Analysons ce climatogramme

- Les températures (la courbe rouge) sont plus basses en hiver et plus élevées en été.
- Les précipitations (en bleu): il pleut pendant toute l'année.
Il n'y a pas de mois totalement sec.



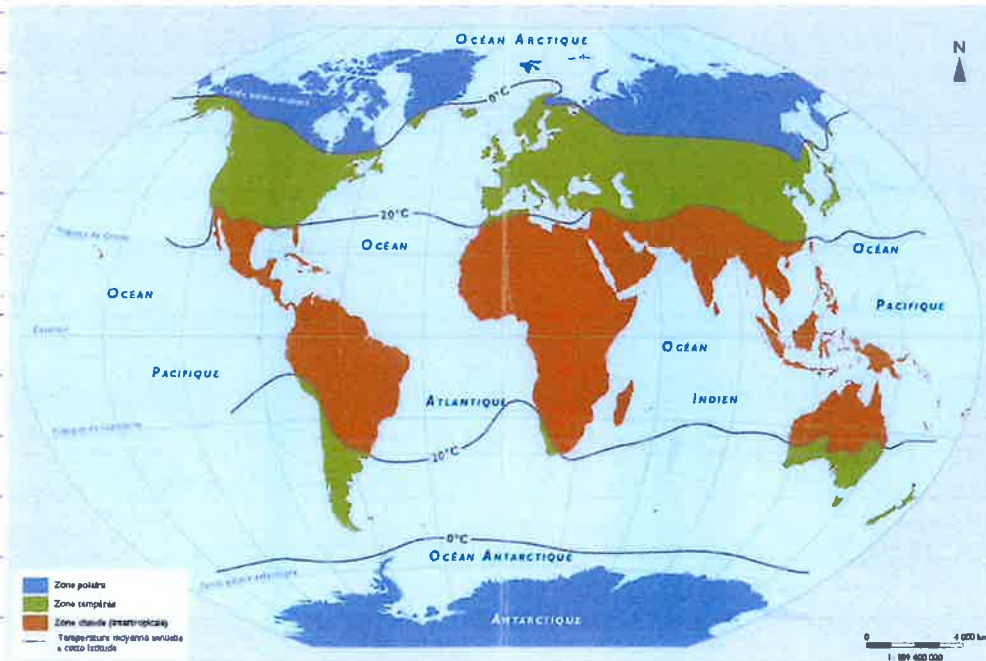
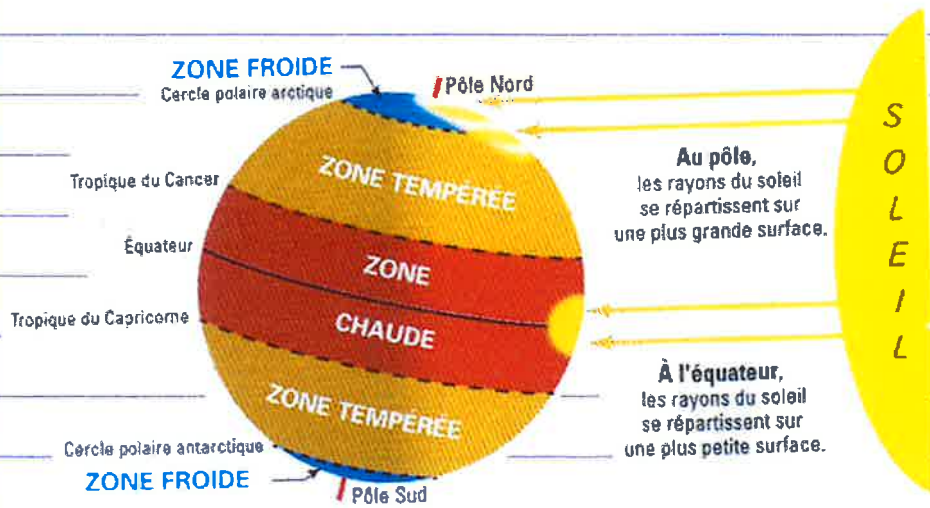
Cela montre que la Belgique a un climat tempéré: il ne fait ni très chaud ni très froid, et il pleut assez régulièrement toute l'année.

uite...

Les zones thermiques du monde

Sur Terre, il existe 3 grandes zones thermiques.

- La zone chaude se trouve autour de l'équateur et il y fait chaud toute l'année.
- La zone tempérée se situe entre les zones chaudes et froides : les saisons y sont bien marquées.
- La zone polaire se trouve près des pôles et il y fait très froid.



Les 5 climats de l'Europe

L'Europe se trouve dans la zone tempérée, 4 saisons se succèdent au cours de l'année.

Climat océanique

Le long des côtes atlantiques, le climat est doux et pluvieux toute l'année. Les températures varient assez peu d'une saison à l'autre.

Londres

Climat de haute montagne

Climat océanique dégradé

Dans les régions d'Europe centrale, situées à l'intérieur des terres, les saisons sont plus marquées que le long des côtes. Les étés peuvent être chauds, la neige et le gel ne sont pas rares en hiver.

Moscou

Climat continental

En Europe de l'Est, les saisons sont très marquées. Les températures descendent bien en dessous de 0 °C en hiver. Les étés sont très chauds.

Climat méditerranéen

Les régions qui entourent la mer Méditerranée connaissent un climat très chaud et sec en été, et très doux en hiver. Des pluies d'orage peuvent s'abattre brusquement.

Athènes

Mer Méditerranée

Températures moyennes pour quelques villes en janvier et en juillet

	Janvier	Juillet
Athènes :	9°C	27°C
Londres :	5°C	18°C
Vienne :	-1°C	19°C
Moscou :	-10°C	22°C

À RETENIR

- Les climats de l'Europe sont très variés. Le continent se trouve dans la zone tempérée.
- Le climat dépend surtout de la distance par rapport à l'océan, mais aussi du relief.
- L'Europe de l'Ouest et l'Europe centrale ont un climat

océanique ou océanique dégradé.

L'Europe de l'Est et l'Europe du Nord ont un climat continental.

Le climat de l'Europe du Sud est méditerranéen.

Tempéré :

au climat sans excès, ni très froid en hiver, ni très chaud en été.

encore!

uite...

Les grands types de climat dans le monde.

Sur Terre, on distingue plusieurs types de climat.

Il existe par exemple :

- Le climat **équatorial**, très chaud et très humide toute l'année.
- Le climat **tropical**, chaud avec des saisons de pluie et de sécheresse.
- Le climat **aride**, très sec comme dans les déserts.
- Le climat **tempéré**, comme chez nous avec ses 4 saisons.
- Le climat **polaire**, où il fait très froid toute l'année.



Le réchauffement climatique

Aujourd'hui, la température moyenne de la Terre augmente :

On parle de réchauffement climatique.

Certaines activités humaines, comme le pétrole, le gaz ou le charbon, produisent des gaz qui réchauffent l'air : les gaz à effet de serre.

Ces gaz retiennent une partie de la chaleur autour de la Terre et provoquent le réchauffement du climat.

Il peut entraîner la fonte des glaciers, la montée de la mer et des changements pour les animaux et les plantes.

15. Moment clé n°4 : d'après 1945 (guerre)

La Belgique a officiellement demandé de la main-d'œuvre ouvrière à d'autres pays entre 1945 et 1970 parce qu'après la seconde Guerre mondiale, elle avait besoin de Bcp de travailleurs pour relancer l'économie, surtout dans les mines et l'industrie.

Bcp de Belges ne voulaient plus faire ces métiers car ils étaient très durs, dangereux et mal payés. La Belgique a donc fait venir des ouvriers étrangers (Espagne, Grèce, Tunisie, Turquie, Italie, ...) pour répondre au manque de main d'œuvre.




Ces migrations ont transformé la Belgique. Aujourd'hui, notre pays est marqué par une grande diversité culturelle, linguistique et religieuse.

Culture : façon de vivre d'un groupe de personnes

Langue : moyen de communiquer.

Religion : ensemble de croyances et de pratiques

Des personnes venues d'origine différentes ont participé à la vie du pays et ont apporté des langues, des traditions, des musiques, des cuisines et des façons de vivre variées.



S'intégrer dans un nouveau pays n'est pas toujours facile.

Parmi les aides à l'intégration, il peut y avoir :

- le travail
- l'apprentissage de la langue
- l'école
- l'aide d'association
- l'accueil des voisins
- ...

Parmi les obstacles, il peut y avoir :

- la pauvreté, - les discriminations.
- la difficulté de comprendre la langue. - ...
- l'éloignement de la famille - les moqueries

Après 1945, la Belgique manque d'ouvriers. Elle fait appel à des travailleurs étrangers, surtout pour les mines et l'industrie. Ces migrations ont contribué à faire de la Belgique un pays multiculturel. Les migrants ont apporté des langues, des traditions et des habitudes nouvelles. Mais leur intégration n'a pas toujours été facile : la langue, la pauvreté et les discriminations ont parfois été des obstacles.

Les migrations d'hier aident à mieux comprendre la Belgique d'aujourd'hui.